

الدراسة الدولتان الاموية والعباسية



أكمل المسطرة الزمنية التالية:

الدولة الأموية

عصر النبوة

٦٥٦هـ

٤١هـ

١هـ

أكمل البطاقة التعريفية للدولة الأموية التالية:

الدولة الأموية

نسبهم:

عدد الخلفاء:

أول خليفة أموي:

العاصمة:

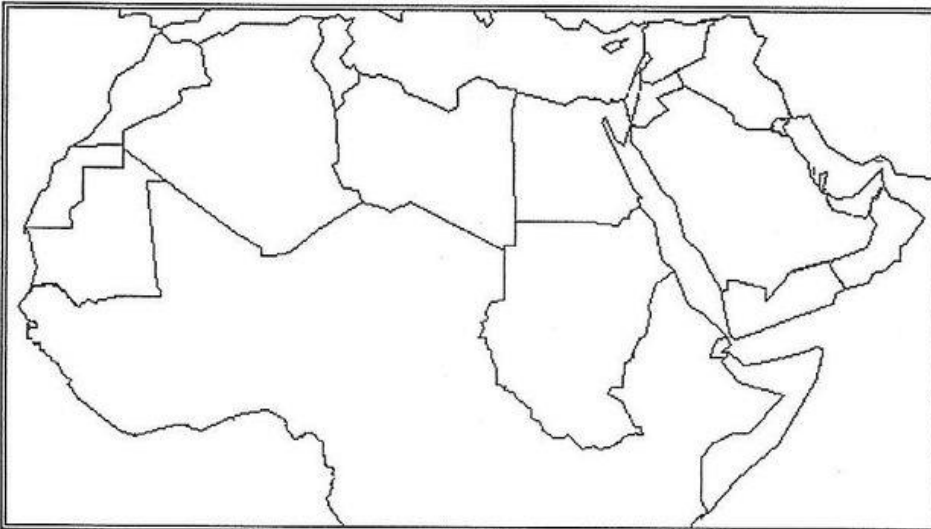


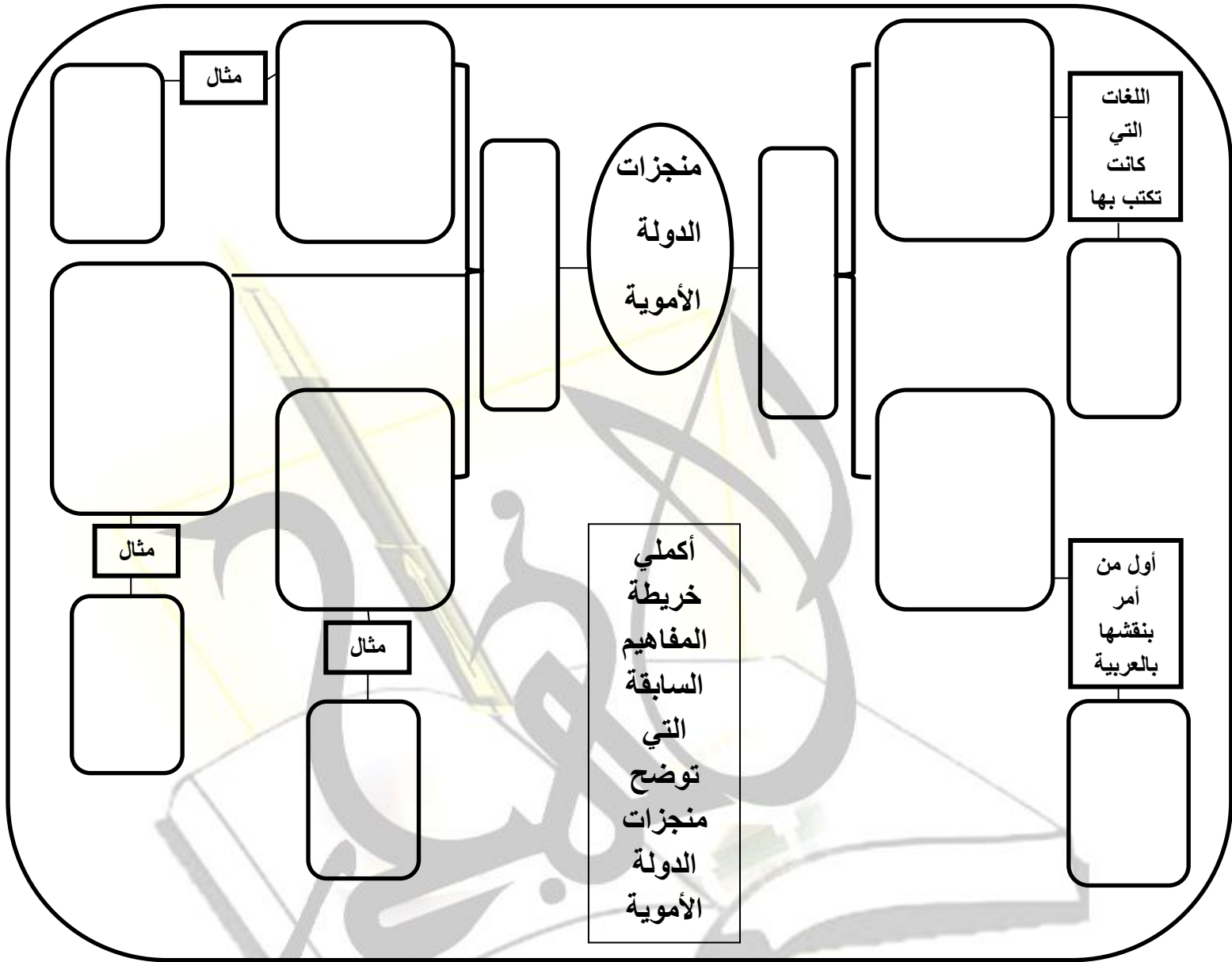
تأمل الخريطة التالية ثم أجب عن

الأسئلة:

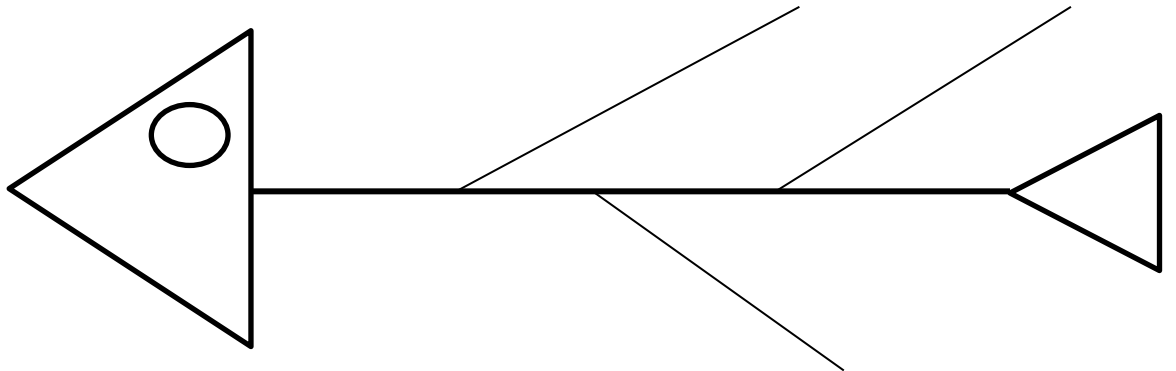
١- سمى على الخريطة عاصمة الدولة الاموية.

٢- ظللي على الخريطة المناطق التي فتحها موسى بن نصير





أكملي في مخطط عظم السمكة أسباب سقوط الدولة الأموية



بأستخدام أسلوب أخفض يدك أجيب عن الأسئلة:

ما أشهر خلفاء الدولة العباسية؟
ما هي عاصمة الدولة العباسية؟
ما هي الفترة الزمنية التي ظهرت فيها؟
إلى من ينسب العباسيين؟

ع ١ قرن
أستمرت؟



*صنفي في الجدول منجزات الدولة العباسية في مكانها المناسب (بناء مدينة بغداد/ترجمة الكتب والعلوم إلى اللغة العربية/الوزير/إنشاء مكتبة بيت الحكمة/قاضي القضاة/بناء مدينة سامراء):

الإدارية	العمرانية	الفكرية

أدرسي الصورة ثم أجيب عن الأسئلة:

١- المخطط المقابل يوضح أحد المدن التي بناها العباسيين..سمي هذه المدينة؟

.....

٢- الرمز (س) و (ص) يشيران لبابين من أبواب المدينة ما هما؟

س..... ص.....

٣- أستنتج من الشكل أسلوبين دفاعيين لحماية المدينة؟

.....



- أستنتج من الصور أسباب سقوط الدولة العباسية:-



- متى سقطت الدولة العباسية؟

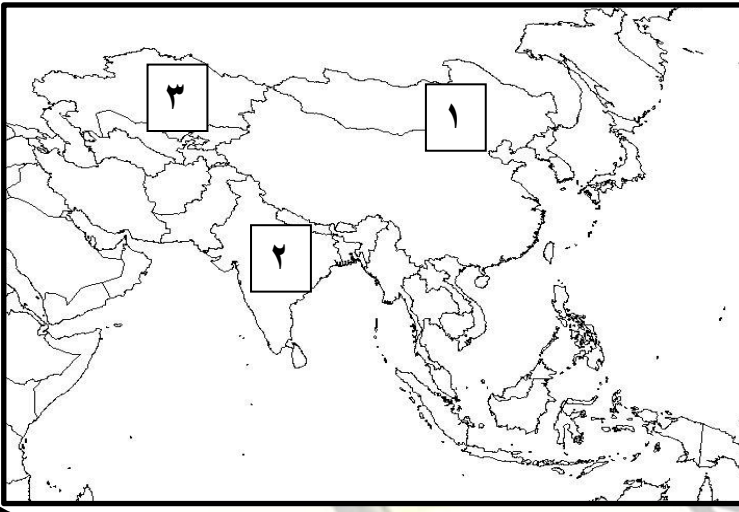
- سقطت الدولة العباسية على يد

أكمل خريطة المفاهيم التالية مستعينة بالكلمات بكتابتها في مكانها المناسب:

(العمارة الإسلامية - ٦٥٦هـ - بيت الحكمة - الدولة الأموية - بغداد - بناء مدينة سامراء - العملات النقدية - قاضي القضاة - ٤١هـ - الدولة العباسية)

الدولتان الأموية والعباسية





أدرسي الخريطة التالية ثم أجيب عن الأسئلة:

أ- أستخرجي من الخريطة الرقم الدال على:

١- موطن المغول.....

ب - وقعي على الخريط عاصمة الدولة العباسية
بغداد.

٣- أرسمي خط سير المغول نحو بغداد.

ظلي الأجابة الصحيحة من بين البدائل المعطاة:

١- أنتهت فترة حكم الخلافة الراشدة للدولة الإسلامية عام:

١١٠هـ ٤١٠هـ ١٣٢٠هـ ٦٥٦هـ

٢- أستطاع القائد موسى بن نصير فتح بلاد..... في عصر الدولة الأموية:

○ ما وراء النهر ○ ملتان ○ العراق ○ المغرب والأندلس

٣- تقع الاندلس في قارة:

○ أفريقيا ○ آسيا ○ أوروبا ○ أمريكا الشمالية

٤- توضح الصورة أحد منجزات الدولة الأموية في العمارة الإسلامية هو:



○ قصر عمرة ○ الجامع الأموي ○ قبة الصخره ○ القيروان

٥- جميع ما يلي من أسباب سقوط الدولة الأموية ما عدا:

○ أتساع المساحة ○ الصراع بن الخلفاء ○ تزايد المعارضة ضدهم ○ صعوبة الأتصال

٦- أستمرت الدولة العباسية:

○ قرنين ○ ثلاث قرون ○ أربع قرون ○ خمس قرون

٧- جميع ما يلي ليس من المنجزات الفكرية للدولة العباسية ما عدا:

○ الوزير ○ مكتبة بيت الحكمة ○ مدينة سامراء ○ قاضي القضاة

٨- موطن المغول الأصلي هو:

○ الصين ○ الهند ○ منغوليا ○ العراق