



الأنشطة الاقتصادية في الوطن العربي

الدرس الثالث



يتوقع من الطالب بعد الانتهاء من الدرس أن يكون قادرا على :-

1- يوضح أهمية الزراعة في الوطن العربي

2- يُعطي أمثلة على المحاصيل الزراعية في الوطن العربي

3- يقترح حلولاً لبعض المشكلات التي تواجه الزراعة في الوطن العربي .

4- يُعرّف مفهوم الصناعة .

5- يوضح أهمية الصناعة في الوطن العربي .

6- يعدد أهم الصناعات في الوطن العربي .

7- يعرف مفهوم السياحة في الوطن العربي .

8- يبيّن أهمية السياحة في الوطن العربي .

9- يعدد المقومات السياحية التي يمتلكها الوطن العربي .

10- يقدر أهمية تنوع الأنشطة الاقتصادية في الوطن العربي .

الانشطة الاقتصادية في الوطن العربي

عوامل تنوع الأنشطة الاقتصادية في الوطن العربي



المناخ



الموارد
الطبيعية



الموقع
الجغرافي

الانشطة الاقتصادية في الوطن العربي



السياحة



الصناعة



الزراعة

أولاً :- الزراعة

1 - استنتج من

الصورة السابقة

نوع النشاط

الاقتصادي

.....

.

2- أين قامت

الزراعة في

بداياتها

.....

...



أولاً :- الزراعة

2- أين قامت الزراعة في بداياتها

.....



١- يوضح أهمية الزراعة في الوطن العربي

اربط العبارة بالصورة المناسبة



مصدر رئيسي للغذاء

يوفر المواد الخام للصناعة

توفر فرص العمل

ومصدر للدخل القومي

2- أمثلة على بعض المحاصيل الزراعية في الوطن العربي



ويُنتج الوطن العربي العديد من المحاصيل الزراعية مثل: الحبوب الغذائية، والخضراوات، والفواكه بنسب مختلفة (الشكل ١٤).

الشكل (١٤) الإنتاج الزراعي للوطن العربي لعام ٢٠١٤م

المصدر: المنظمة العربية للزراعة ٢٠١٥م

أمثلة
للبيذور



نشاط ١



يوضِّح الجدول أدناه إنتاج بعض المحاصيل الزراعية لعددٍ من الدُّول العربية. أدرسه ثمَّ أجب عن الأسئلة التي تليه:

الإنتاج بالألف طن (عام ٢٠١٤م)					الدولة
الليمون	التمور	الطماطم	البطاطس	القمح	
٦	٣١٧	٧٥	٥	٣	سلطنة عُمان
٢٦	١٠	٥٩٤	٣٦٦	٣٩	الأردن
٢٥٥	٤٤١	٥٦٧	٣٤٧	١٩٢	السودان
٤٤	١٩٥	١٢٠٠	٣٨٥	١٥١٣	تونس

١. ما أكثر المحاصيل الزراعية إنتاجًا في السلطنة؟ علل ذلك.
التمور بسبب ملائمتها للمناخ الصحراوي حيث تتحمل درجات الحرارة العالية وقلة المياه

٢. استخرج الدُّول العربية الأكثر إنتاجًا لمحاصيل:
القمح تونس البطاطس تونس الليمون السودان

٣. أستنتج ومجموعتي أسباب تنوع المحاصيل الزراعية في الوطن العربي .
بسبب تنوع المناخ بين المناخ الصحراوي والبحر المتوسط والموسمي



كلمات مُضِيَّة

« لقد أعلننا هذا العام عاما للزراعة؛ انطلاقا من إيماننا بضرورة بذل مزيد من الجهود لتطوير هذا القطاع وفقا لأساليب عملية وواقعية تأخذ بعين الاعتبار الاهتمام بالمحاصيل التقليدية وغيرها من المحاصيل التي تجود زراعتها في بلادنا، وتساعد على تحقيق أكبر قدر ممكن من الاكتفاء الذاتي في المنتجات الغذائية».

من الخطاب السامي لحضرة صاحب الجلالة السلطان قابوس بن سعيد المعظم -حفظه الله ورعاه-

نشاط ٢



أ - من خلال قراءتي للنطق السامي لحضرة صاحب الجلالة السلطان قابوس بن سعيد المعظم -حفظه الله ورعاه- وبالاستعانة بمصادر التعلم المختلفة أُجيب عن الأسئلة الآتية:

١ . أوضِّح المقصود بالاكتفاء الذاتي.

القدرة على توفير احتياجات السكان من الغذاء محليا بصورة مستمرة

٢ . أعطى مقترحات لتحقيق الاكتفاء الذاتي بالسلطنة. من خلال تنمية النشاط الزراعي وذلك من خلال حل المشكلات التي تواجه الزراعة وتوفير الأسمدة والبذور الجيدة وتقديم الدعم المادي والمعنوي للمزارعين وتسويق المنتجات الزراعية وتشجيع الدراسات والبحوث الزراعية وأيضا التنمية الصناعية وذلك عن طريق تطوير الصناعات الأساسية وصناعة التعدين والطاقة وأيضا تطوير حركة التجارة الداخلية والخارجية .

حلولا لبعض المشكلات التي تواجه الزراعة في الوطن العربي .

ب- تعاني بعض الدول العربية من ضعف الإقبال على العمل في النشاط الزراعي . في ضوء ذلك، أكمل ومجموعتي الجدول الآتي:

المشكلة	الأسباب	الحلول المقترحة
ضعف الإقبال على العمل في النشاط الزراعي		

المشكلة	الأسباب	الحلول المقترحة
ضعف الإقبال على العمل في النشاط الزراعي	١- انخفاض أسعار المنتجات الزراعية الخارجية . ٢- منافسة العمالة الوافدة . ٣- المشكلات الزراعية الناتجة عن الآفات والأسمدة . ٤- قلة المياه وتدهور خصوبة التربة . ٥- توجه ميول الشباب للمهن الأخرى كالصناعة والتجارة والحج .	١- مساعدة المزارعين في تسويق المنتجات الزراعية . ٢- توفير الدعم للمزارعين باليدور والأسمدة والمبيدات الحشرية لمكافحة الآفات الزراعية . ٣- تثقيف المزارعين . ٤- تشجيع الشباب للعمل في النشاط الزراعي من خلال توفير الحوافز المادية وتزويدهم بالآلات الزراعية الحديثة .

ثانياً :- الصناعة

للوصول إلى مفهوم المادة الخام عليك عزيزي الطالب تنفيذ النشاط التالي

نشاط ٣



أصنّف في الجدول أدناه الصناعات الآتية حسب طبيعة المادة الخام :
(صناعة المنسوجات الصوفية، صناعة الذهب، صناعة الألبان، صناعة السكر، صناعة الزيوت النباتية، صناعة الأسلاك الكهربائية).

معدنية	حيوانية	زراعية
صناعة الذهب	صناعة المنسوجات القطنية	صناعة السكر
صناعة الاسلاك الكهربائية	صناعة الألبان	صناعة الزيوت النباتية

إذا المادة الخام هي :- مواد طبيعية
أو معدنية غير مصنعة ، قابلة للتصنيع
أو حيوانية
أو زراعية



مادة خام معدنية



مادة خام حيوانية



مادة خام زراعية

مفهوم الصناعة . للوصول إلى تعريف الصناعة حول المواد الخام التالية إلى سلع أخرى



تتحول إلى



تتحول إلى



تتحول إلى



تحويل المادة الخام إلى سلعة أخرى تلبية لحاجة الإنسان

الصناعة

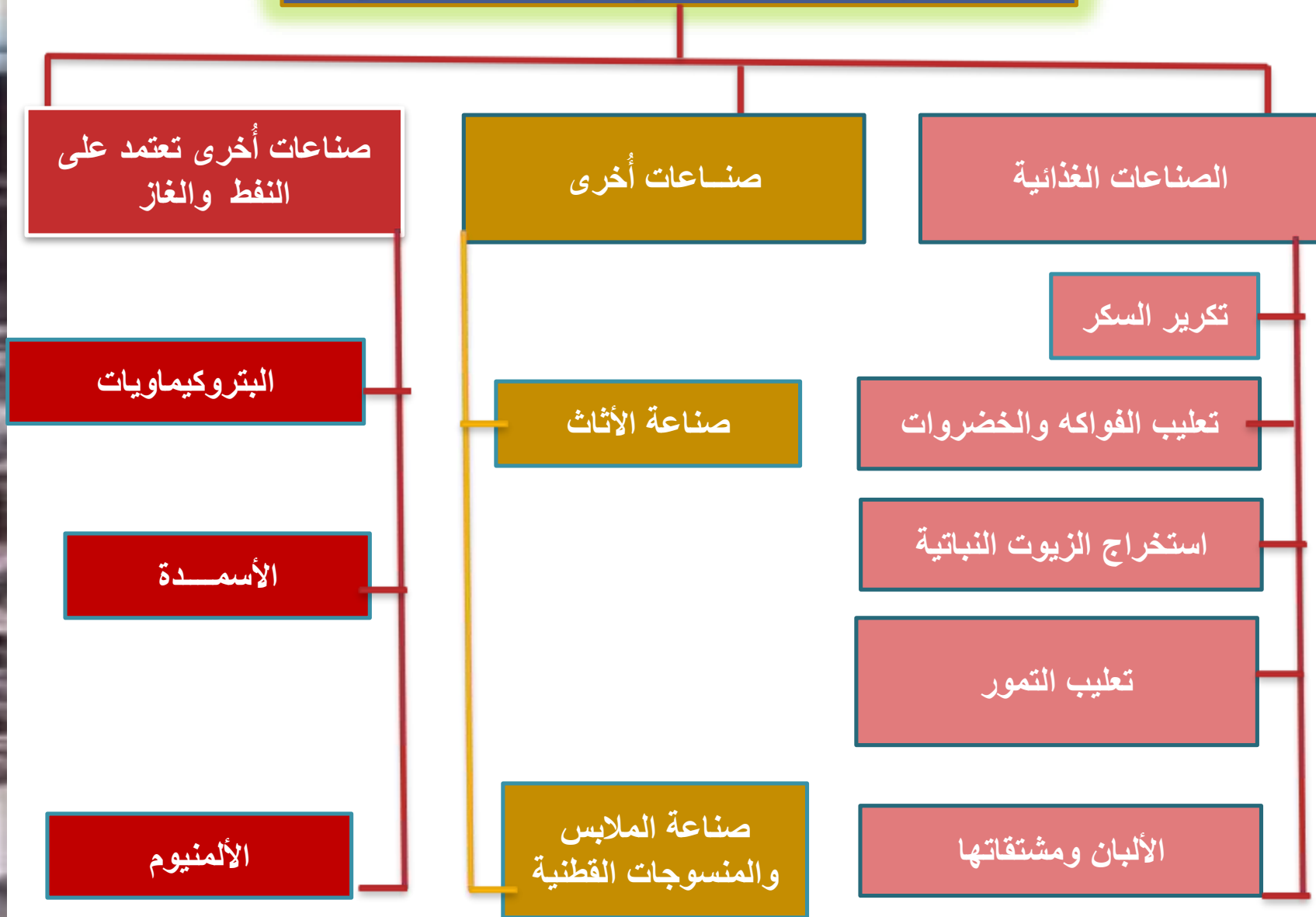
أهمية الصناعة في الوطن العربي .



فرص
عمل
للسكان

مصدراً
مهماً
للدخل

أهم الصناعات في الوطن العربي .



مواد مستخرجه من النفط
وتستخدم في صناعة البلاستيك
ومواد التنظيف

البتروكيم
اويات



اهتمام السلطنة بالنشاط
الصناعي
من خلال إنشاء العديد
من المناطق الصناعية
مثل منطقة صحار
الصناعية التي تعد إحدى
المناطق الاستثمار
المحلي والعالمي

أنواع الصناعات

صناعات تقوم على استخراج
المواد الخام من أماكنها

=

الصناعات الاستخراجية



تتحول إلى



تحويل المواد الخام الطبيعية
إلى سلع ومنتجات أُخرى

=

الصناعات التحويلية



تتحول إلى





تصنف الصناعات إلى عدة أنواع منها الصناعات التحويلية والصناعات الاستخراجية. في ضوء ذلك وبالاستعانة بمصادر التعلم المختلفة أتعرف الفرق بينهما، ثم أصنّف الصناعات المعطاة إلى: صناعات استخراجية وصناعات تحويلية.

(صيد الأسماك، صناعة البلاستيك، استخراج النفط والغاز، صناعة الزجاج، التنقيب عن المعادن، تعليب الخضار والفواكه، صناعة الأثاث، استخراج اللؤلؤ).

صناعات تحويلية

Four empty trapezoidal boxes for writing examples of manufacturing industries.

صناعات استخراجية

Four empty trapezoidal boxes for writing examples of extractive industries.



ثالثا :- السّياحة

السّياحة

حركة الأفراد من أماكن إقامتهم إلى أماكن أخرى بغرض أداء مهمة معينة أو زيارة مكان أو بغرض الترفيه



أهمية السيّاحة.

تتّمي العلاقات
والتبادل الثقافي بين
الشعوب



ومصدر للدخل القومي



توفّر فرص العمل



المقومات السّياحة التي يمتلكها الوطن العربي .

المواقع
الأثرية




الخدمات

السياحية



المحميات

الطبيعية



تنوع

المناخ



عوامل الجذب

السياحي في

الوطن العربي

اهتمام الدول العربية بالسياحة

الخدمات السياحية



المناسبات
والمعارض



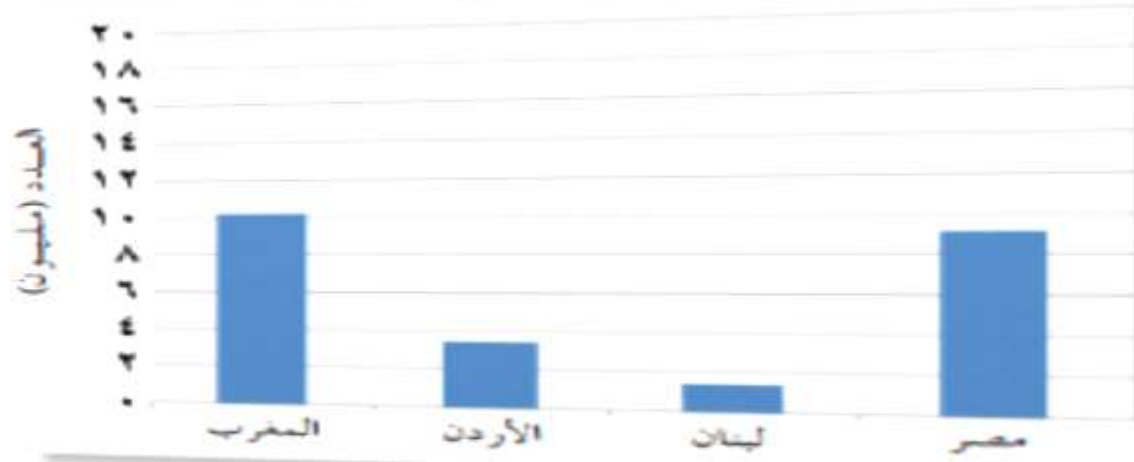
المطاعم



الفنادق



وسائل
النقل



الشكل (١٩) عدد السياح القادمين إلى بعض الدول العربية في عام ٢٠١٥ م

نشاط ٥



بالاستعانة بالشكل (١٩) ومصادر التعلم المختلفة، أجيّب عن الأسئلة الآتية :

١- أرّتب الدول الواردة بالشكل ترتيبًا تنازليًا من حيث عدد السياح.

المغرب مصر الأردن لبنان

٢. أكتب أهم المعالم السياحية التي تشتهر بها الدول الواردة في الجدول:

الدولة	أهم المعالم السياحية
الأردن	مدينة البتراء
المغرب	المدينة العتيقة لفاص بها أقدم جامعة في العالم
مصر	الأهرامات
لبنان	مغارة جعيتا

المفومات السيّاحية في سلطنة عمان

القلع والحصون



البيئات

الطبيعية



تنوع

المناخ



ما رأيك بهذا التصرف وكيف نحافظ على المرافق السياحية؟؟





٢. ما واجي تجاه الأماكن السياحية التي أزورها.

المحافظة على نظافتها ورمي المخلفات في الأماكن المخصصة لها

المحافظة على الحياة النباتية والحيوانية الموجودة فيها

المحافظة على مرافقها المختلفة وتوعية الآخرين بضرورة المحافظة عليها



تَم بِحَمْدِ اللَّهِ