

- (١) وضح المقصود بجغرافية السكان ؟ العلم الذي يختص بدراسة الخصائص السكانية المختلفة مثل : النمو السكاني + التوزيع الجغرافي للسكان + المشكلات السكانية .
- (٢) اذكر الخصائص التي تهتم بدراستها جغرافية السكان ؟ النمو السكاني + التوزيع الجغرافي للسكان + المشكلات السكانية .
- (٣) علل : تحتاج الدول إلى المعلومات المتعلقة بأعداد السكان ؟ حتى تستطيع توفير الخدمات المناسبة لأعداد السكان كالمدارس و المستشفيات والمسكن و الأماكن الترفيهيه ... الخ .
- (٤) عدد مصادر البيانات السكانية ؟



- (٥) وضح المقصود بالتعداد السكاني ؟ عملية جمع و إعداد المعلومات السكانية والاقتصادية والاجتماعية المتعلقة بجميع الأفراد في دولة معينة وفترة معينة .
- (٦) متى تم إجراء أول تعداد سكاني في السلطنة ؟ عام ١٩٩٣ م .
- ❖ ملاحظة : تم إجراء تعداد سكاني موحد لجميع دول الخليج في عام ٢٠١٠ م ومن بينهم السلطنة .

Governorate/Region	المجموع			وافدون			عمانيون			المحافظة/المنطقة
	Total	إناث Female	ذكور Male	المجموع Total	إناث Female	ذكور Male	المجموع Total	إناث Female	ذكور Male	
Muscat Governorate	775,878	300,732	475,146	368,872	102,788	266,084	407,006	197,944	209,062	محافظة مسقط
Al Batinah Region	772,590	338,557	434,033	151,640	31,011	120,629	620,950	307,546	313,404	منطقة الباطنة
Musandam Governorate	31,425	12,960	18,465	9,527	2,470	7,057	21,898	10,490	11,408	محافظة مسندم
Adh Dhahirah Region	151,664	64,220	87,444	32,787	5,059	27,728	118,877	59,161	59,716	منطقة الظاهرة
Ad Dakhliyah Region	326,651	144,696	181,955	57,582	10,075	47,507	269,069	134,621	134,448	المنطقة الداخلية
Ash Sharqiyah Region	350,514	160,715	189,799	57,120	13,684	43,436	293,394	147,031	146,363	المنطقة الشرقية
Al Wusta Region	42,111	10,117	31,994	23,068	827	22,241	19,043	9,290	9,753	المنطقة الوسطى
Dhofar Governorate	249,729	99,358	150,371	85,656	19,306	66,350	164,073	80,052	84,021	محافظة ظفار
Al Buraymi Governorate	72,917	29,713	43,204	29,891	9,102	20,789	43,026	20,611	22,415	محافظة البريمي
Sultanate	2,773,479	1,161,068	1,612,411	816,143	194,322	621,821	1,957,336	966,746	990,590	السلطنة

- (٧) ما الجهة المسؤولة في السلطنة عن جمع البيانات المتعلقة بالسكان ؟ المركز الوطني للإحصاء والمعلومات والاسم المختصر له هو NCSI .
- (٨) عبدالله أحد أعضاء لجنة التعداد السكاني في منطقتة ، وأثناء مراجعة الأوراق وجد أن جاره محمد كتب في الإحصائية أن عائلته مكونه من ٥ أفراد علما أن عددهم الفعلي ١٠ أفراد .
- أ- ما رأيك في تصرف محمد ؟

○ جيد


● غير جيد

( اختار الإجابة الصحيحة )

ب- فسر ذلك ؟ لأن الدولة تحتاج إلى المعلومات الدقيقة والصحيحة عن عدد السكان حتى تستطيع توفير الخدمات الكافية لهم .

- (١) وضح المقصود بالنمو السكاني ؟ زيادة عدد السكان من سنة إلى أخرى بسبب الزيادة الطبيعية و الهجرة .
- (٢) صف معدل النمو السكاني في الوطن العربي ؟ نمو سكاني مرتفع .
- (٣) علل : يعد معدل النمو السكاني في الوطن العربي من المعدلات المرتفعة ؟ بسبب ارتفاع معدل الزيادة الطبيعية وارتفاع معدلات الهجرة .
- (٤) اذكر العوامل المؤثرة في النمو السكاني ؟

### النمو السكاني



- (٥) وضح المقصود بالزيادة الطبيعية ؟ الزيادة الناتجة عن الفرق بين عدد المواليد و عدد الوفيات .



- (٦) اكتب العملية الحسابية المستخدمة لحساب الزيادة الطبيعية ؟ الزيادة الطبيعية = المواليد - الوفيات .
- (٧) وضح المقصود بالزيادة غير الطبيعية ؟ الزيادة الناتجة عن هجرة السكان .

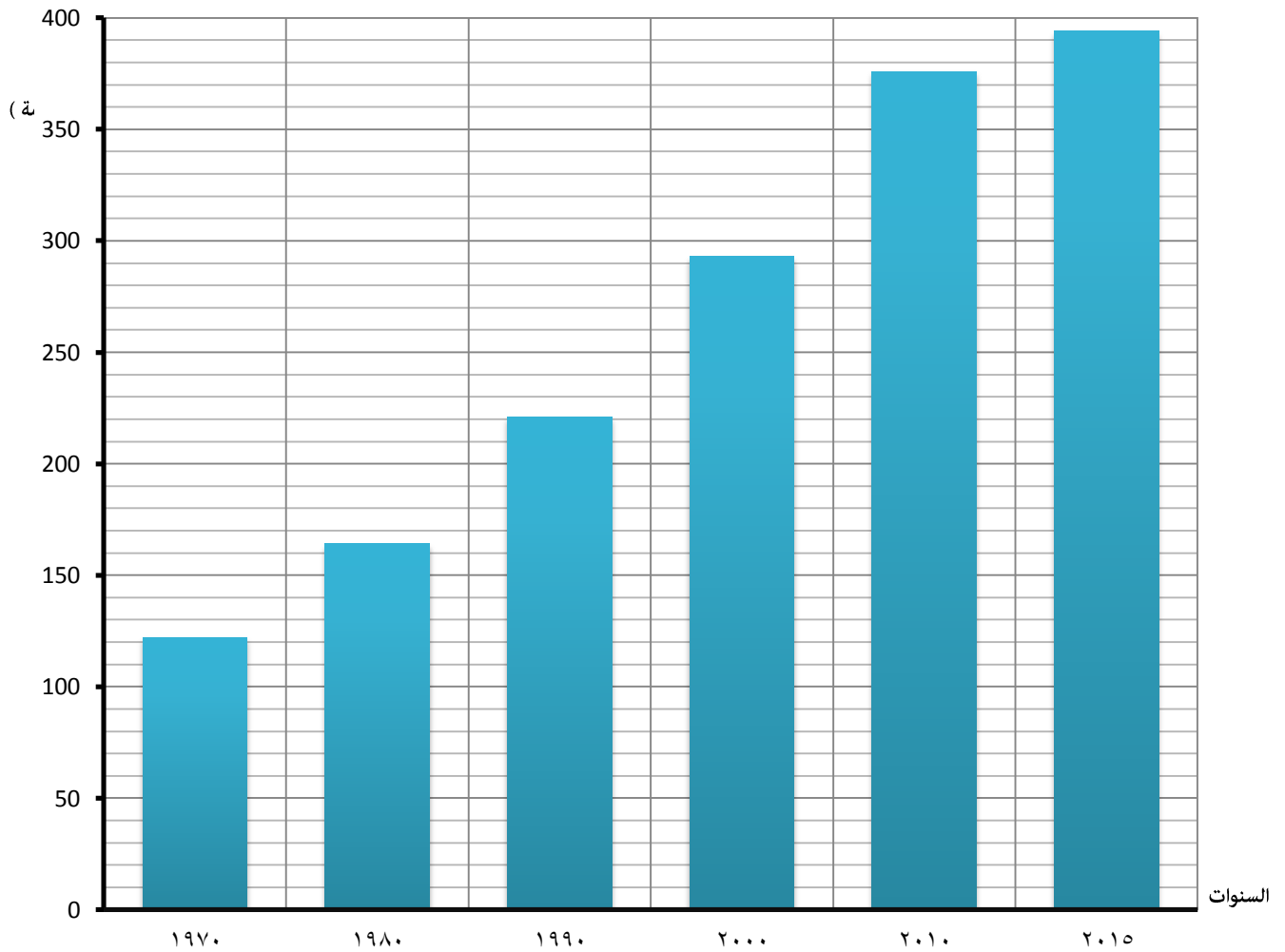


- (٨) كم بلغ عدد سكان السلطنة في عام ٢٠٠٦ م ؟ ٢,٥ مليون نسمة .
- (٩) كم بلغ عدد سكان السلطنة في عام ٢٠١٧ م ؟ ٤,٦ مليون نسمة .
- (١٠) فسر : ارتفاع معدل النمو السكاني في سلطنة عمان في السنوات الأخيرة ؟ بسبب ارتفاع مستوى الرعاية الصحية للأمومة والطفل + تحسن المستوى المعيشي للسكان + زيادة عدد المواليد وانخفاض عدد الوفيات .

(١١) ادرس البيانات الواردة في الجدول والتي توضح نمو السكان في الوطن العربي بين عامي (١٩٧٠ - ٢٠١٥ م ثم اجب عما يأتي :

السنة	عدد السكان (مليون نسمة)
١٩٧٠	١٢٢
١٩٨٠	١٦٤
١٩٩٠	٢٢١
٢٠٠٠	٢٩٣
٢٠١٠	٣٧٦
٢٠١٥	٣٩٤

أ- حول البيانات المذكورة في الجدول إلى أعمدة بيانية ؟

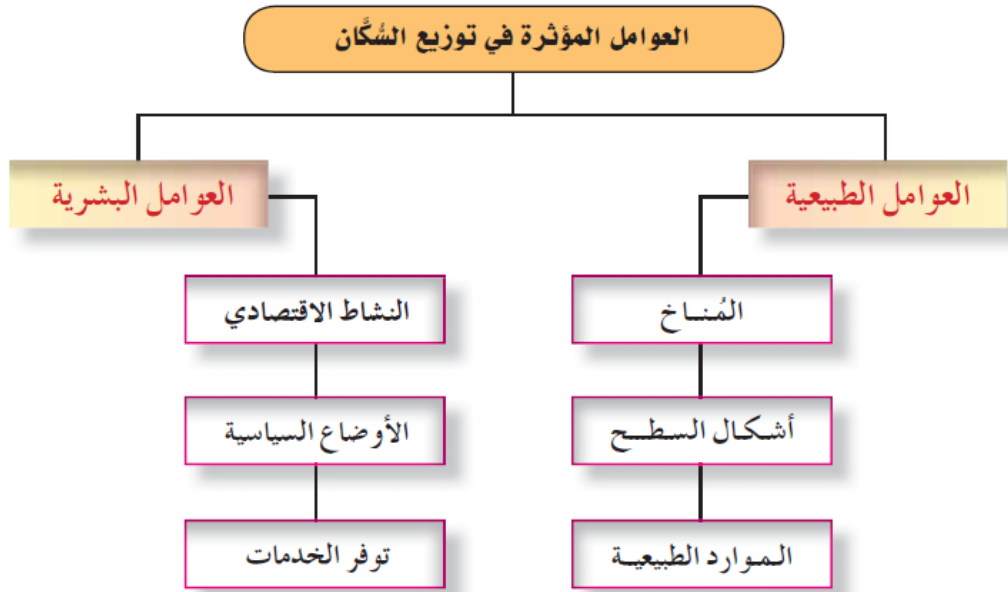


ب- كم بلغت الزيادة السكانية في الوطن العربي خلال السنوات (١٩٥٠ - ٢٠١٥ م) ؟  $٣٩٤ - ١٢٢ = ٢٧٢$  مليون نسمة .

ج- فسر : زيادة معدل النمو السكاني في الوطن العربي خلال السنوات المذكورة ؟ بسبب ارتفاع معدل المواليد وانخفاض معدل الوفيات ، وأيضا

ارتفاع معدلات الهجرة إلى الوطن العربي .

- ١) وضح المقصود بالتوزيع الجغرافي للسكان ؟ انتشار السكان في منطقة معينة .
- ٢) صف توزيع السكان في الوطن العربي ؟ غير منتظم .
- ٣) علل : توزيع السكان في الوطن العربي بشكل غير منتظم ؟ نتيجة لعدد من العوامل الطبيعية و البشرية .
- ٤) عدد العوامل المؤثرة في توزيع السكان ؟



- ٥) اذكر العوامل الطبيعية المؤثرة في توزيع السكان ؟ المناخ + أشكال السطح + الموارد الطبيعية .



٦ اذكر العوامل البشرية المؤثرة في توزيع السكان ؟ النشاط الاقتصادي + الأوضاع السياسية + توفر الخدمات .



الأوضاع السياسية



الأنشطة الاقتصادية



الكهرباء



الصحة



التعليم

توفر الخدمات مثل :

٧ اذكر أشكال التوزيع الجغرافي للسكان ؟

أ- مناطق مزدحمة بالسكان مثل :

- المناطق الساحلية ( سواحل البحر المتوسط + ساحل مسقط ) .
- ضفاف الأنهار ( نهر دجلة والفرات في العراق و نهر النيل في مصر ) .

ب- مناطق قليلة السكان مثل :

- المناطق الجبلية .
- المناطق الجافة .
- المناطق الصحراوية باستثناء المناطق التي يظهر فيها النفط والغاز .

٨ علل : تركز السكان بكثرة على ضفاف الأنهار ؟ بسبب توفر المياه + التربة الخصبة الصالحة للزراعة .

٩ أعط مثال على مدينة عربية يتركز فيها السكان بنسبة مرتفعة ؟ مدينة القاهرة في مصر .

١٠ علل : قلة تركز السكان في المناطق الجبلية ؟ بسبب شدة التضاريس + قلة الخدمات .

١١ أعط مثال على منطقة جبلية في الوطن العربي يقل فيها تركز السكان ؟ الجبل الأخضر في سلطنة عمان .

١٢ علل : قلة تركز السكان في المناطق الصحراوية ؟ بسبب قسوة المناخ + انتشار المناخ الصحراوي .

١٣ أعط مثال على منطقة صحراوية في الوطن العربي يقل فيها تركز السكان ؟ مدينة فزان في ليبيا ( تقع ضمن الصحراء الكبرى ) .

١٤ فسر : انخفاض عدد السكان في محافظة الوسطى ؟ بسبب الطبيعة الصحراوية السائدة فيها .

١٥ علل : تركز السكان في محافظة مسقط ؟ بسبب توفر الخدمات و فرص العمل + تركز الأنشطة الاقتصادية .

- ١) اذكر التغيرات السكانية التي يمر بها الوطن العربي؟ ارتفاع معدل المواليد + انخفاض معدل الوفيات + هجرة السكان إلى المدن .
- ٢) علل : هجرة السكان إلى المدن ؟ بسبب : توفر فرص العمل + ارتفاع مستوى الخدمات .
- ٣) ما النتائج المترتبة على هجرة سكان الريف إلى المدن ؟ ظهور عدة مشكلات في المدن .
- ٤) اذكر المشكلات التي تواجه المدن ؟ الاختناقات المرورية + التلوث + الضغط على الخدمات + نقص المساحات الخضراء .

## ازدحام مروري ينتج عنه العديد من الحوادث



## الضغط على الخدمات



## نقص المساحات الخضراء



## التلوث بكافة أنواعه مثل :



## التلوث البيئي



## التلوث المائي



## التلوث الهوائي

٥) ناقش مشكلة الاختناقات المرورية في المدن من حيث : الأسباب والنتائج ثم اقترح بعض الحلول لحل هذه المشكلة ؟

المشكلة	أسبابها	نتائجها	الحلول المقترحة
الاختناقات المرورية في المدن	١. زيادة عدد المهاجرين إلى المدن .	١. ضياع وقت المواطنين أثناء انتقالهم من مكان لآخر .	١. توزيع الخدمات بشكل متساو بين المدن والريف بحيث يقلل من هجرة السكان .
	٢. زيادة أعداد السيارات .	٢. زيادة حوادث المرور مما يؤدي إلى خسائر بشرية ومادية .	٢. تحسين أنظمة النقل العام والتشجيع على النقل الجماعي
	٣. تحسن مستوى الدخل لسكان المدن .	٣. زيادة نسبة التلوث الهوائي .	
	٤. ضعف أنظمة النقل العام : الحافلات والقطارات		
	٥. تركز معظم الخدمات الادارية في المدن .		

## • الاسئلة الموضوعية:

ضع دائرة حول الرمز الدال على الإجابة الصحيحة من بين البدائل المعطاة :

(١) العامل البشري المؤثر في توزيع السكان في الوطن العربي :

أ- التربة      ب- المناخ      ج- الهجرة      د- المياه

(٢) الزيادة السكانية من سنة لآخرى بسبب الهجرة والزيادة الطبيعية :

أ- الكثافة السكانية      ب- النمو السكاني      ج- الهجرة السكانية      د- التعداد السكاني

(٣) الفرق بين معدل المواليد ومعدل الوفيات :

أ- الزيادة غير الطبيعية      ب- النمو السكاني      ج- الزيادة الطبيعية      د- التعداد السكاني

(٤) السبب الرئيسي في تركيز السكان على سواحل البحر المتوسط :

أ- المناخ المعتدل      ب- التربة الخصبة      ج- المياه      د- النفط والغاز

(٥) بلغت الزيادة السكانية في الوطن العربي بالمليون نسمة بين عامي ١٩٧٠ و

١٩٩٠ حسب الجدول المقابل :

السنة	عدد السكان (مليون نسمة)
١٩٧٠	١٢٢
١٩٨٠	١٦٤
١٩٩٠	٢٢١
٢٠٠٠	٢٩٣
٢٠١٠	٣٧٦
٢٠١٥	٣٩٤

أ- ٤٢

ب- ٩٩

ج- ١٧١

د- ٢٥٤

(٦) المنطقة التضاريسية التي يميل سكان الوطن العربي للتركز فيها :

أ- الجبال      ب- الصحاري      ج- الهضاب      د- السهول الرسوبية

(٧) الزيادة السكانية الناتجة عن الهجرة طلبا للعمل :

أ- الزيادة غير الطبيعية      ب- النمو السكاني      ج- الزيادة الطبيعية      د- التعداد السكاني

(٨) عدد سكان الوطن العربي حسب الجدول المقابل :

السنة	عدد السكان (مليون نسمة)
١٩٧٠	١٢٢
١٩٨٠	١٦٤
١٩٩٠	٢٢١
٢٠٠٠	٢٩٣
٢٠١٠	٣٧٦
٢٠١٥	٣٩٤

أ- ثابت

ب- متساوي

ج- يزيد

د- يقل



٩) الرقم الذي يشير إلى المنطقة الأكثر تركيزا بالسكان في الجزائر :

- أ- ١
- ب- ٢
- ج- ٣
- د- ٤

١٠) العبارة الصحيحة التي تمثل أحد أسباب النمو السكاني في سلطنة عمان :

- أ- ارتفاع معدل المواليد وانخفاض معدل الوفيات
- ب- انخفاض معدل المواليد وارتفاع معدل الوفيات
- ج- تساوي معدلات المواليد والوفيات
- د- ارتفاع معدل المواليد وارتفاع معدل الوفيات

١١) المقترح المناسب لحل مشكلة الاختناقات المرورية في المدن العربية :

- أ- تحسين مستوى دخل سكان المدن
- ب- زيادة أعداد السيارات في المدن
- ج- تحسين الخدمات وفرص العمل في الريف
- د- زيادة فرص العمل في المدن

### • الاسئلة المقالية :

١) أمامك مجموعة من الصور لمشكلات المدن في الوطن العربي ، اكتب أسفل كل صورة نوع المشكلة :



٢) اذكر مصدر واحدا تعتمد عليه الدول للحصول على معلومات عن السكان ؟

---



---

٣) وضع المقصود بالزيادة الطبيعية ؟

---



---

٤) اذكر اثنين من العوامل الطبيعية المؤثرة في توزيع السكان في الوطن العربي ؟

---



---



٥) فسر : هجرة السكان من الريف إلى المدن ؟

٦) كان عدد سكان سلطنة عمان في عام ١٩٩٣ م حوالي ( ١,٧ ) مليون نسمة ، وفي عام ٢٠١٦ م بلغ عددهم ( ٤,٦ ) مليون نسمة ، في ضوء هذه العبارة أجب عما يأتي :

أ- ما العملية التي يتم بها معرفة عدد السكان في اي دولة ؟

ب- ما الذي حدث لسكان سلطنة عمان خلال هذه الفترة ؟

ج- ما السبب في ذلك ؟

٧) صنف العوامل المؤثرة في توزيع سكان الوطن العربي إلى عوامل طبيعية وبشرية ( الهجرة - التربة - الخدمات - أشكال السطح ) :

عوامل طبيعية	عوامل بشرية
_____	_____
_____	_____
_____	_____

٨) وضح المقصود بالتعداد السكاني ؟

٩) يمر الوطن العربي بتغيرات سكانية كبيرة أهمها هجرة سكان الريف إلى المدن ، في ضوء العبارة السابقة أجب عما يأتي :

أ- وضح أسباب هجرة سكان الريف إلى المدن ؟

ب- أعط مثالين على المشكلات التي تسببها هذه الهجرات ؟

١٠) أعطى محمد معلومات غير صحيحة عن أسرته للجنة التعداد السكاني في منطقته ، في ضوء هذه العبارة أجب عما يأتي :

أ- ما رأيك بتصرف محمد ؟

صحيح

غير صحيح

( اختار الإجابة الصحيحة )

ب- بما تفسر اهتمام الدول بجمع معلومات عن السكان ؟

١١) ادرس الجدول الذي أمامك جيدا ثم اجب عما يأتي :

أ- احسب الفرق بين في تزايد عدد السكان من سنة م ١٩٩٠ إلى سنة م ٢٠٠٠ ؟

ب- كم عدد السنوات التي يمثلها هذا الجدول ؟

السنة	عدد السكان (مليون نسمة)
١٩٧٠	١٢٢
١٩٨٠	١٦٤
١٩٩٠	٢٢١
٢٠٠٠	٢٩٣
٢٠١٠	٣٧٦
٢٠١٥	٣٩٤

١٢) ادرس الصورتين التاليتين ، ثم أجب على الأسئلة التي تليها :



(ص)



(س)

أ- المنطقة السكانية التي تعاني من المشكلة الظاهرة في الصورة المشار إليها بالرقم ( س ) :

الريف

المدن

ب- من هو المسبب الرئيسي للمشكلة الظاهرة في الصورة المشار إليها بالرقم ( ص ) ؟



ج- الرقم الذي يشير إلى المحافظة العمانية التي تعاني من المشكلتين الظاهرتين اعلاه في الخريطة المقابلة :

١

٢

١٣) يمر الوطن العربي بتغيرات سكانية عديدة منها : ارتفاع معدلات المواليد وانخفاض معدلات الوفيات وهجرة السكان إلى المدن ، في ضوء هذه العبارة أجب عما يأتي :

أ- أعط سببا واحدا من الأسباب التي أدت إلى هجرة السكان إلى المدن؟

ب- فسر : ارتفاع نسبة المواليد في الوطن العربي في الوقت الحاضر ؟

ج- ما الطريقة التي اتبعتها السلطنة لحل مشكلة هجرة سكان الريف إلى المدن؟